

নাম ..... বয়স .....  
বালক । বালিকা । পুরুষ । মহিলা ..... কেন্দ্র .....  
ঠিকানা .....  
গ্রাম পশ্চিমঘাট । মিউনিসিপ্যালিটি ..... ওয়ার্ড নম্বর .....

১। ফাঁকা জায়গায় কোন অক্ষর বসবে লিখতে হবে :

এ.....ও	..... ফ	ছ .....
ব.....ট	..... য	ট .....
ড .....	..... ব	ড .....

২। নীচের অক্ষরগুলিকে জুড়ে শব্দ বানাতে হবে

য + ব =	খ + ন =
খ + লা =	ভা + ড =
শা + ক =	টা + কী =

৩। নীচের শব্দগুলি দিয়ে বাক্যরচনা করতে হবে

- ক) আকাশ
- খ) দেশ
- গ) জল
- ঘ) মেঘ
- ঙ) ডিম
- চ) গোলাপ

৪। নীচের অংশটা ভালো করে পড়ে তারপর পরের পুশুগুলোর উত্তর লিখতে হবে

- ক) আমরা ভালোভাবে বাঁচতে চাই । তাই শিশু পরিবারে এনে তাকে ঠিকমতো মানুষ করতে হবে । তাকে উচ্চতমতরো খেতে দিতে হবে । ঠিক সময়ে কাপড় জামা দিতে হবে । শিশুর বয়স বাড়ার সাথে সাথে নানান ধরণের পুষ্টিমেধক টীকা দিতে হবে । তার একমাস বয়স হলে বি.সি.জি. দিতে হবে । তারপর তাকে পোলিও এবং টিটেনাসের পুষ্টিমেধক ঔষধ খাওয়ানো হবে । এইসব ঔষধ খাওয়ালে শিশু হুয়াম , পোলিও ও টিটেনাস অসুখের হাত থেকে বাঁচতে পারবে ।

প্ৰশ্ন :


- ক) কাকে ডালনাভাবে মানুহ কৰতে হবে ?  
খ) শিশুৰ বয়স বাঢ়াৰ সৰথে সৰথে কী দিহে হবে ?  
গ) শিশুৰ একমাস বয়স হলে তাকে কী দিহে হবে ?  
ঘ) শিশুকে পুষ্টিমেধক ভৈমধপুনি ধাওয়ালে কোন কোন রোগের হাত থেকে বঁচানো যাবে ?

৫। যে কোন দুটি ঘাছের নাম লিখতে হবে  
(১) (২)


৬। যে কোন দুটি পাখির নাম লিখতে হবে  
(১) (২)

- ৭। ক) সূৰ্য কোন দিকে ওঠে ?  
খ) সূৰ্য কোন দিকে অস্ত যায় ?  
গ) রাঙের আকাশে কী লেখতে পাওয়া যায় ?


৮। ছবিনুনি লেখে তনামু নাম লিখতে হবে




খ)



গ)



ঘ)



৪। খ) ছোট পরিবার স্মৃষ্টি পরিবার । আমরা পুত্র্যেক স্মৃষ্টি পরিবার গড়ে তুলব । ছেলে বা মেয়ে হওয়ার পর জন্মের ব্যবধান রাখার জন্য প্রাথমিক হাসপাতালে যাব । মেয়ে ও ছেলের মধ্যে আদরের কোন ভেদ থাকবে না । মেয়েও ছেলের মতো আমাদের কাছে সম্মানভাবে আদরণীয় । ছেলে ও মেয়েকে চিকমতো মানুস করলে তবেই স্মৃষ্টি পরিবার গড়ে উঠবে ।

প্রশ্ন :

- ক) কোন পরিবার স্মৃষ্টি পরিবার ?
- খ) কেন প্রাথমিক হাসপাতালে যাব ?
- গ) মেয়ে ও ছেলের মধ্যে কি আদরের দিক থেকে কোনভেদ থাকা উচিত ?
- ঘ) স্মৃষ্টি পরিবার কিভাবে গড়ে উঠবে ?

- ১। ক) ১০ এর ঠিক পরের সংখ্যাটি কত ?  
খ) ১৫ এর ঠিক পরের সংখ্যাটি কত ?  
গ) ২৫ এর ঠিক পরের সংখ্যাটি কত ?  
ঘ) ৩২ এর ঠিক আগের সংখ্যাটি কত ?  
ঙ) ৮১ এর ঠিক আগের সংখ্যাটি কত ?  
চ) ৭৬ এর ঠিক আগের সংখ্যাটি কত ?

১০। কথায় লিখতে হবে

- ক) ১৬ .....
- খ) ২৭ .....
- গ) ৩৬ .....
- ঘ) ৪৮ .....
- ঙ) ৫৫ .....

১১। সংখ্যায় (জেরক) লিখতে হবে

- ক) উনিশ .....
- খ) আটশ .....
- গ) সীইত্রিশ .....
- ঘ) ষাট .....
- ঙ) সাতাশি .....

১২। ক) যে সংখ্যানু লি জোড় সংখ্যা তার উলায় দাগ দিতে হবে

২৪, ৩৩, ৮, ২৫

খ) যে সংখ্যানু লি বিজোড় সংখ্যা তার উলায় দাগ দিতে হবে

৩৪, ৯, ২১, ৭৬

১৩। ক) যে সংখ্যাটি সব থেকে ছোট তার উলায় দাগ দিতে হবে

১৮, ২০, ৫২, ১২

খ) যে সংখ্যাটি সব থেকে বড় তার উলায় দাগ দিতে হবে

৭৭, ৬৫, ৮৮, ৪৭

১৪। ছোট থেকে বড় সংখ্যা পর্যন্ত সাজাতে হবে

৮৩, ৬৩, ৫০, ৭১

১৫। বড় থেকে ছোট সংখ্যা পর্যন্ত সাজাতে হবে

১৩, ২২, ৫৪, ৬৪

১৬। ফাঁকা ঘরগুলোতে সঠিক সংখ্যানু লি বসাতে হবে

৪২	৪৪	৪৬	৪৮
৬৬	৬৮	৭০	৭১

১৭। যোগ করতে হবে

ক) ৬ ৩	(খ) ৯ ৬	(গ) ৫ ৬	(ঘ) ৪ ৫	(ঙ) ৭ ২
+ ২	+ ৪ ২	+ ১ ৫	+ ২ ০	+ ৬

১৮। বিয়োগ করতে হবে

ক) ১৮	(খ) ৩৩	(গ) ৭৮	(ঘ) ৮৫	(ঙ) ৪৩
- ২	- ৫	- ১৭	- ২৩	- ৩১

১৯। গুণ করতে হবে

ক) ২২	(খ) ৩২	(গ) ৪৫	(ঘ) ৭২	(ঙ) ৮৬
X ৪	X ৩	X ১২	X ১০	X ১৩

২০। ভাগ করতে হবে

ক) ৫) ৩০(	(খ) ৭) ৫০(	(গ) ১৩) ৬৮২(
ঘ) ১৮) ৭৫৮(	(ঙ) ২০) ২০০(	

২১। মিনার কাছে ১০ টি ও তুনুর কাছে ৫ টি আম আছে। তাদের দুজনের কাছে মোট কটি আম আছে ?

২২। রায়বাবুর কাছে ২০ টি মার্বেল আছে। তার ছেলের কাছে ১৪ টি মার্বেল আছে। মোট ছাদের কাছে কটি মার্বেল আছে ?

২৩। শ্যামলদের গাছে ১০ টি নারকেল ছিল। তার মধ্যে ৪ টি নারকেল পূজা উপলক্ষে গাছ থেকে নামানো হল। এখন গাছে কটি নারকেল থাকল ?

২৪। মধুর তরমুজ বাগানে ৪০ টি তরমুজ হয়েছিল। তার মধ্যে ১০ টি তরমুজ বাজারে বিক্রি করল। অতএব মধুর বাগানে কতগুলি তরমুজ থাকল ?

২৫। পুতৌকে ১৩ টি ঝর চকোলেট দেওয়া হল। তাহলে ৬ জনের জন্য কতগুলি চকোলেট লাগবে ?

২৬। হীরকের ১ দিনের মজুরি ৩০ টাকা। তাহলে তার ৮ দিনের মজুরি কত ?

২৭। একটি গাছে ১৮ টি পাখি বসে আছে। তার মধ্যে ৪ টি পাখি উড়ে গেল। এখন গাছটিতে কতগুলি পাখি থাকলো ?

২৮। রতন বাজারে গিয়ে ১০ টাকা দিয়ে চাল, ১২ টাকা দিয়ে ডাল এবং ৫ টাকার আন কিনল। সে মোট কত টাকা খরচ করল ?

২৯। তোমার মা। বাবা। বন্ধুকে যেকোন একটি বিষয়ে চিঠি লেখ।