

APPENDIX-III

প্ৰশ্নাবলী - ৩

নাম বয়স

বালক - বালিকা । পুৰুষ । মহিলা কেন্দ্র
গ্রাম পশ্চায়েত । মিউনিসিপ্যালিটি । ওয়ার্ড নং

১। ফাঁকা জায়গায় কোন অক্ষর বসবে লিখতে হবে

ই	উ	ফ	শ
ধ	ঘ	ল	ঝ
ড	ন	দ	ও

২। নীচের অক্ষরগুলি জুড়ে শব্দ বানাতে হবে

আ + য	ঘ + র
র + যা	দা + ন
বা + ডি	কি + রণ

৩। নীচের শব্দগুলি দিয়ে বাক্যরচনা করতে হবে

ক) পুঁহ
খ) নাল
গ) কলম
ঘ) জল
ঙ) বাগান
চ) চোখ

৪। নীচের অংশটা ভালো করে ঝেড়ে পরের প্ৰশ্নগুলির উত্তর লিখতে হবে

ক) কীচা ফলমূল ধুয়ে খেতে হবে । না ধুয়ে খেলে অসুখ করতে পারে । ফলমূল শরীর ভালো রাখে । ফলমূলে একরকম গুণ আছে । তাকে ভিটামিন বলে । এই ভিটামিন প্ৰত্যেকের খাওয়া দারকার । 'এ' ভিটামিন খেলে চোখ ভালো থাকে । 'সি' ভিটামিন খেলে অনেক অসুখ হয় না । পায়ের চামড়া ভালো থাকে । লেবুতে 'সি' ভিটামিন আছে । ভিটামিন ছাড়াও ফলমূলে অনেক গুণ আছে ।

প্ৰশ্ন :

- ১। কীচা ফলমূল কীভাবে খেতে হয় ?
- ২। ফলমূলে যে গুণ থাকে তার নাম কী ?

৩। কোন ভিটামিন খেলে চোখ ভালো থাকে ?

৪। লেবুতে কোন ভিটামিন আছে ?

খ) আমাদের দেশের নাম ভারতবর্ষ। এখানে নানা জাতি ও নানা ধর্মের মানুষরা রয়েছে। শূঁধু তাই নয়, এখানে বিভিন্ন ভাষাভাষীর লোকেরা একসাথে মিলেমিলে বসবাস করে। তাই আমরা এক। ভারত আমাদের দেশ। এই দেশ বড়ো দেশ। এই দেশের অনেক বিখ্যাত কাহিনী রয়েছে। এই দেশকে জানতে হলে দেশের ইতিহাস পড়তে হবে। কারণ ইতিহাসে দেশের কথা আছে।

প্রশ্ন:

১। আমাদের দেশের নাম কী ?

২। এখানে কেমন ধরনের মানুষরা রয়েছে ?

৩। এখানে বিভিন্ন ভাষাভাষীর লোকেরা কীভাবে বসবাস করে ?

৪। এই দেশকে জানতে হলে কী পড়তে হবে ?

৫। যে কোন দুটি পুষ্টির নাম লিখতে হবে


(১) (২)

৬। যে কোন দুটি পাখির নাম লিখতে হবে

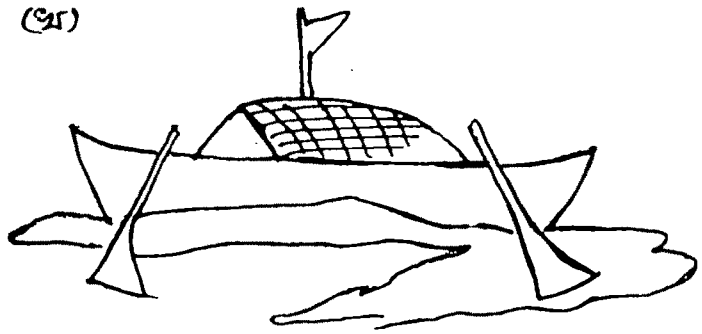
(১) (২)

৭। ছবিগুলি দেখে উল্লেখ্য নাম লিখতে হবে


(ক)




(খ)



(গ)



(ঘ)



- ৮। ক) ডোমাদের জেনার নাম কী ?
খ) ডোমাদের জেনাশাপেকের নাম কী ?
গ) ডোমাদের রাজ্যের নাম কী ?

৯। কথায় লিখতে হবে

- ক) ৬
খ) ১০
গ) ২২
ঘ) ৪০
ঙ) ৬৫

- ১০। ক) ১০ এর ঠিক আগের সংখ্যাটি কত ?
খ) ২৫ এর ঠিক আগের সংখ্যাটি কত ?
গ) ৫২ এর ঠিক আগের সংখ্যাটি কত ?
ঘ) ৫ এর ঠিক পরের সংখ্যাটি কত ?
ঙ) ৩৬ এর ঠিক পরের সংখ্যাটি কত ?

১১। সংখ্যায় (অঙ্কে) লিখতে হবে

- ক) পনের
খ) চল্লিশ
গ) ছাপান্ন
ঘ) আটাত্তর
ঙ) বিরাশি

১২। ক) যে সংখ্যাগুলি জোড় সংখ্যা তার উনায় দাগ দিতে হবে

২, ১৪, ২২, ৩১

খ) যে সংখ্যাগুলি বিজোড় সংখ্যা তার উনায় দাগ দিতে হবে

১১, ৪৪, ৬৬, ২৫

১৩। ক) যে সংখ্যাটি সব থেকে ছোট তার উল্লেখ দান দিতে হবে

১৮, ২৭, ৩৩, ১৬

খ) যে সংখ্যাটি সব থেকে বড় তার উল্লেখ দান দিতে হবে

১৫, ৩২, ১৪, ৫৬

১৪। ছোট থেকে বড় সংখ্যা পর্যন্ত সাজাতে হবে

৫২, ৭৪, ৩৫, ১২

১৫। বড় থেকে ছোট সংখ্যা পর্যন্ত সাজাতে হবে

৪, ৬২, ৪৫, ২৩

১৬। ফাঁকা ঘরগুলিতে সঠিক সংখ্যাগুলি বসাতে হবে

১০		১২		১৪		১৬
৭৪	৭৫			৭৬		৬০

১৭। যোগ করতে হবে

ক) ২২	(খ) ৬৫	(গ) ৫৭	(ঘ) ৭৫	(ঙ) ২৩
+ ৭	+ ১০	+ ১৮	+ ৩৫	+ ২৪
<hr/>	<hr/>	<hr/>	<hr/>	<hr/>

১৮। বিয়োগ করতে হবে

ক) ১৮	(খ) ৩৩	(গ) ৭৬	(ঘ) ৬৫	(ঙ) ৪৩
- ২	- ৫	- ১৭	- ২৩	- ৩১
<hr/>	<hr/>	<hr/>	<hr/>	<hr/>

১৯। গুণ করতে হবে

ক) ১১	(খ) ১২	(গ) ২৫	(ঘ) ৪৬	(ঙ) ৬৪
X ৪	X ৮	X ১০	X ১২	X ৩
<hr/>	<hr/>	<hr/>	<hr/>	<hr/>

২০। ভাগ করতে হবে

ক) ৪) ৩২((খ) ৮)৫০((গ) ১২)৪৫৬(
ঘ) ১২)৫৭৮((ঙ) ২৫)১৫০(

- ২১। করিমের নতুন গাই ১০ কেজি দুধ দেয়। তার আগের গাই ৭ কেজি দুধ দেয়। সব মিলিয়ে কত দুধ হয় ?
- ২২। মোহনের কাছে ১৫ টি আম আছে। সুননের কাছে ৪ টি আম আছে। মোট তাদের কাছে কটি আম আছে ?
- ২৩। মদন বাজারে গিয়ে পুণ্য দিন ১২ টা কানড় থেকে ৫ টা কানড় বিক্রি করল। মোট তার কাছে কটি কানড় থাকল ?
- ২৪। রায়বাবু বাজারে গিয়ে ১২ কেজি চাল কিনল। তার থেকে ৩ কেজি চাল ধরচ করল। বাকী কত চাল থাকল ?
- ২৫। একটি জামার দাম ১০ টাকা ৫০ পয়সা। তাহলে ৫ টি জামার দাম কত হবে ?
- ২৬। একটি বৃড়িতে ১৮ টি কলা আছে। তাহলে ৪ টি বৃড়িতে কতগুলি কলা থাকবে ?
- ২৭। পরানের কাছে ৩০ টি লিচু আছে। ৬ জন ছাত্র-ছাত্রীর মধ্যে সমানভাবে ভাগ করে দিলে পুড়োকে কয়টি করে পাবে ?
- ২৮। মধুর কাছে ২০ টি বেনুন আছে। তার ২ ছেলেমেয়ের মধ্যে সমানভাবে ভাগ করে দিলে পুড়োকে কয়টি করে বেনুন পাবে ?
- ২৯। তোমার মা। বাবা। বন্ধুকে যে কোন একটি বিষয়ে চিঠি লেখ।