

APPENDIX-II

প্ৰশ্নাবলী - ২

নাম ..... বয়স .....  
বালক । বালিকা । পুৰুষ । মহিলা ..... কেন্দ্ৰ .....  
ঠিকানা .....  
গ্ৰাহ প'ৰ্টফোলিও । মিউনিসিপ্যালিটি । ওয়ার্ড নং .....

১। ফাঁকা জায়গায় কোন অক্ষর বসবে লিখতে হবে :

আ .....	ই .....	ছ .....	ফ .....
গ .....	ঙ .....	ট .....	ঠ .....
ক .....	খ .....	খ .....	হ .....

২। নীচের অক্ষরগুলিকে জুড়ে শব্দ বানাতে হবে :

ক + না	ব + ই
জ + বা	বে + গু + নী
শা + নি + ক	চা + বি

৩। নীচের শব্দগুলি দিয়ে বাক্যরচনা করতে হবে :

- ক) চাঁদ
- খ) বেনুন
- গ) সবুজ
- ঘ) ছবি
- ঙ) বাঘ
- চ) খেলা

৪। নীচের অংশটা ভালো করে পড়ে পঠনের প্রশ্নগুলির উত্তর লিখতে হবে :

ক) জল নানা কারণে দূষিত হতে পারে সেই দূষিত জল খাওয়া ভালো নয় । এতে অনেক রকম অসুখ হয় । তাই অসুখ না হওয়ার কথা ভাবতে হবে । শিশুর ঘন ঘন পাড়না পায়খানা বা বমি হলে তাকে নুন, চিনি ও স্লেবু মিশ্রিত সরবত বারে বারে খাওয়াতে হবে । তারপর সরকারী হাসপাতালে নিয়ে যেতে হবে । তাই পরিষ্কার পানীয় জল খাওয়া উচিত ।

প্রশ্ন :

১। দূষিত জল খেলে কি হয় ?

২। শিশুর ঘন ঘন পাডনা পায়খানা বা বমি হলে ডাক্তারকে কি খাওয়াতে হবে ?

৩। ডারপর কোথায় নিয়ে যেতে হবে ?

৪। কি রকম পানীয় জল খাওয়া উচিত ?

ক) আমাদের গ্রামের নাম মুরাদপুর । এখানে প্রতি বছর পয়লা বৈশাখে মেলা বসে । এই মেলায় অনেক দোকান বসে । পুতুল নাচ হয় । এবছর ঐ মেলাতে যাত্রা হয়েছিল । ঐ যাত্রার নাম হল সীতার বনবাস । আমার ছোট কোন রমা বাবার সঙ্গে ঐ যাত্রা দেখতে গিয়েছিল ।

প্রশ্ন :

১। গ্রামের নাম কি ?

২। প্রতি বছর কোন সময়ে এখানে মেলা বসে ?

৩। এবছর মেলাতে যে যাত্রা হয়েছিল তার নাম কি ?

৪। রমা কে ?

৫। যেকোন দু'টি পশুর নাম লিখতে হবে :


(১) (২)

৬। যেকোন দু'টি সব্জীর নাম লিখতে হবে :


(১) (২)

৭। ছবিগুলি দেখে উল্লম্ব নাম লিখতে হবে :

ক)





(খ)



(গ)

ঘ)



- ৬। ক) আমাদের দেশের নাম কি ?  
 খ) আমাদের রাজ্যের নাম কি ?  
 গ) আমাদের রাজ্যের মুখ্যমন্ত্রীর নাম কি ?

৯। কথায় লিখতে হবে :

- ক) ৯ .....  
 খ) ১৪ .....  
 গ) ১৭ .....  
 ঘ) ১৯ .....  
 ঙ) ২০ .....  
 চ) ৪৭ .....

- ১০। ক) ৩৪ এর ঠিক পরের সংখ্যাটি কত ?  
 খ) ৫৬ এর ঠিক পরের সংখ্যাটি কত ?  
 গ) ৮২ এর ঠিক পরের সংখ্যাটি কত ?  
 ঘ) ২৫ এর ঠিক আগের সংখ্যাটি কত ?  
 ঙ) ১৭ এর ঠিক আগের সংখ্যাটি কত ?  
 চ) ১২ এর ঠিক আগের সংখ্যাটি কত ?

১১। সংখ্যায় (অঙ্কে) লিখতে হবে :

- ক) সতেরো .....  
 খ) আট .....  
 গ) বাইশ .....  
 ঘ) ছিয়ালি .....  
 ঙ) ঠুনআপি .....

১২। ক) যে সংখ্যাগুলি জোড় সংখ্যা তার জন্য দাগ দিতে হবে :

৩, ৬, ১৫, ২৬

খ) যে সংখ্যাগুলি বিজোড় সংখ্যা তার জন্য দাগ দিতে হবে :

১২, ১৯, ৩৩, ৪২

১৩। ক) যে সংখ্যাটি সব থেকে ছোট তার উল্লম্ব দাগ দিতে হবে :

২২, ৩৮, ৫৬, ১৯

খ) যে সংখ্যাটি সব থেকে বড় তার উল্লম্ব দাগ দিতে হবে :

২৬, ৭২, ৫৬, ৬৩

১৪। ছোট থেকে বড় সংখ্যা পর্যন্ত সাজাতে হবে :

৮২, ৫৪, ৩৭, ১১ .....

১৫। বড় থেকে ছোট সংখ্যা পর্যন্ত সাজাতে হবে :

১৫, ৪৮, ৫২, ৮৪ .....

১৬। ফাঁকা ঘরগুলিতে সঠিক সংখ্যাগুলি বসাতে হবে :

৩২		৩৪		৩৬		৩৮
২৩		২৫		২৭		২৯

১৭। যোগ করতে হবে :

ক)  $\begin{array}{r} ৬৩ \\ + ২ \\ \hline \end{array}$       (খ)  $\begin{array}{r} ৩৬ \\ + ৪২ \\ \hline \end{array}$       (গ)  $\begin{array}{r} ৫৬ \\ + ১৫ \\ \hline \end{array}$       (ঘ)  $\begin{array}{r} ৪৫ \\ + ২০ \\ \hline \end{array}$       (ঙ)  $\begin{array}{r} ৭২ \\ + ৮ \\ \hline \end{array}$

১৮। বিয়োগ করতে হবে :

ক)  $\begin{array}{r} ৪৭ \\ - ৫ \\ \hline \end{array}$       (খ)  $\begin{array}{r} ৬৯ \\ - ১০ \\ \hline \end{array}$       (গ)  $\begin{array}{r} ৭৩ \\ - ৫৮ \\ \hline \end{array}$       (ঘ)  $\begin{array}{r} ৮০ \\ - ২৫ \\ \hline \end{array}$       (ঙ)  $\begin{array}{r} ৫৬ \\ - ১৮ \\ \hline \end{array}$

১৯। গুণ করতে হবে :

ক)  $\begin{array}{r} ২২ \\ \times ৪ \\ \hline \end{array}$       (খ)  $\begin{array}{r} ৩৯ \\ \times ৩ \\ \hline \end{array}$       (গ)  $\begin{array}{r} ৪৫ \\ \times ১২ \\ \hline \end{array}$

ঘ)  $\begin{array}{r} ৫৬ \\ \times ২০ \\ \hline \end{array}$       (ঙ)  $\begin{array}{r} ৯২ \\ \times ৩১ \\ \hline \end{array}$

২০। ভাগ করতে হবে :

ক) ২)৩৮(      (খ) ৭)৬৩(      (গ) ১২)৫৬৪(

ঘ) ১৫)৮৭৫(      (ঙ) ২০)১৪০(

- ২১। ব্রীণার কাছে ৭ টি ও যধুর কাছে ৪ টি পুতুল আছে । তাদের দুজনের কাছে মোট কটি পুতুল আছে ?
- ২২। অনুভা বাগানে গিয়ে ৪ টি নাল ফুল, ৩ টি নীল ফুল ও ২ টি সাদা ফুল তুলল । অনুভার সব মিলিয়ে কটি ফুল হল ?
- ২৩। রহিমের কাছে ৪২ কেজি সার আছে । সে ১২ কেজি সার শ্যামকে দিয়ে দিল । রহিমের কাছে কত কেজি সার থাকলো ?
- ২৪। সোমার কাছে ১৭ টি বল ছিল । তার থেকে ৪ টি বল হারিয়ে গেল । তাহলে কটা বল রইল ?
- ২৫। একটি গাড়ী বানাতে ৪ টি চাকা লাগে । ১২ টি গাড়ী বানাতে কটা চাকা লাগবে ?
- ২৬। একটি আপেলের দাম ৫ টাকা । তাহলে ১৪ টি আপেলের দাম কত ?
- ২৭। যদুর কাছে ২৫ টি চকলেট আছে । ৫ জনের মধ্যে সমানভাবে ভাগ করে দিলে পুতু্যেকে কটি করে পাবে ?
- ২৮। একটি বুদ্ধিতে ৩০ টি পেয়ারা আছে । ১০ জনের মধ্যে ভাগ করে দিলে পুতু্যেকে মোট কটি করে পাবে ?
- ২৯। তোমার বাবা । মা । বন্ধুকে যে কোন একটি বিষয়ে চিঠি লেখ ।