

APPENDICES

APPENDIX-1

প্রশ্নাবলী - ১

নামবয়স

ঠিকানা কেন্দ্র

গ্রাম পশ্চিমঘাট। মিউনিসিপ্যালিটি। ওয়ার্ড নং:

১। ফাঁকা জায়গায় কোন অক্ষর বসবে লিখতে হবে :

| | | |
|----------|---------|--------|
| অ..... ই | খ | ব..... |
| এ..... ও | উ | গ..... |
| চ..... জ | হ | ট..... |

২। নীচের অক্ষরগুলিকে জুড়ে শব্দ বানাতে হবে :

| | |
|---------|---------|
| ফ + ন | দা + গ |
| ক + দম | জা + য |
| মা + টি | ধে + না |

৩। নীচের শব্দগুলি দিয়ে বাক্যরচনা করতে হবে :

ক) জমি
খ) ফুল
গ) আম
ঘ) পাখি
ঙ) মাছ
চ) কাগড়

৪। নীচের অংশটা ভালো করে পড়ে পরের প্রশ্নগুলোর উত্তর লিখতে হবে :

ক) জল নানা কারণে দূষিত হতে পারে। ঐ দূষিত জল খেলে পাচনা পায়খানা হতে পারে, আঘাত হতে পারে, কলরো হতে পারে। এই রকম অসুখ হলে খরচ অনেক বেশি হয়। তাই রোগ না হওয়ার কথা ভাবতে হবে। পুকুর বা হাঁদার জল খাওয়া উচিত নয়। যদি পানীয় জল খেতে হয়, তবে ফুটিয়ে খাওয়া উচিত।

প্রশ্ন :

- ১) দূষিত জল খেলে কী কী রোগ হয় ?
- ২) এই রকম অসুখ হলে কী হয় ?

- ৩) কোথাকার জল খাওয়া উচিত নয় ?
- ৪) পানীয় জল কীভাবে খাওয়া যেতে পারে ?
- ৫) চোখ দিয়ে আমরা এই পৃথিবীর সবকিছু দেখতে পাই । তাই চোখ আমাদের কাছে খুবই মূল্যবান । সুতরাং শিশুর জন্মের পর তাকে 'ভিটামিন এ' অবশ্যই খাওয়াতে হবে । ভিটামিন 'এ'র অভাবে শিশুদের রাতকানা রোগ হতে পারে । শিশু তখন দৃষ্টিশক্তি হারাবে । শিশুর বয়স বাড়ার সঙ্গে সঙ্গে সবুজ শাক-সবুজি, পেঁপে, পালং শাক, বিট, গাজর খাওয়াতে হবে । কারণ এগুলিতে ভিটামিন 'এ' আছে ।

প্রশ্ন :

- ১) চোখ মূল্যবান কেন ?
- ২) শিশুর জন্মের পর কী খাওয়াতে হবে ?
- ৩) শিশুদের রাতকানা রোগ হয় কেন ?
- ৪) শিশুদের বয়স বাড়ার সঙ্গে সঙ্গে কী কী খাওয়াতে হবে ?

৫। যে কোন দুটি ফলের নাম লিখতে হবে ।


৬। যে কোন দুটি ফুলের নাম লিখতে হবে ।

৭। ক) আমাদের দেশের নাম কী ?


খ) আপনি যে জেলায় থাকেন সেই জেলার নাম কী ?

গ) আমাদের রাজ্যের নাম কী ?


৮। ছবিগুলি দেখে উনয় নাম লিখতে হবে :




(খ)



(গ)



(ঘ)



- ৯। ক) ২ এর ঠিক পরের সংখ্যাটি কত ?.....
 খ) ৪ এর ঠিক পরের সংখ্যাটি কত ?
 গ) ১৭ এর ঠিক পরের সংখ্যাটি কত ?
 ঘ) ১৫ এর ঠিক আগের সংখ্যাটি কত ?
 ঙ) ২০ এর ঠিক আগের সংখ্যাটি কত ?
 চ) ২৭ এর ঠিক আগের সংখ্যাটি কত ?

১০। কথায় লিখতে হবে :

- ক) ১২
 খ) ১৮
 গ) ২৫
 ঘ) ৩৪
 ঙ) ৫২

১১। সংখ্যায় (অঙ্ক) লিখতে হবে :

- ক) বত্রিশ
 খ) বিরামি
 গ) আটচল্লিশ
 ঘ) ঊনসত্তর
 ঙ) চরানস্বই

১২। ক) যে সংখ্যানু লি জোড় সংখ্যা তার উনায় দাগ দিতে হবে :

১১, ১৬, ৩৫, ৪২

খ) যে সংখ্যানু লি বিজোড় সংখ্যা তার উনায় দাগ দিতে হবে :

২২, ৫৩, ৮৫, ৭৮

১৩। ক) কোন সংখ্যাটি সব থেকে ছোট তার উনায় দাগ দিতে হবে :

৫, ৯, ১৪, ২

খ) কোন সংখ্যাটি সব থেকে বড় তার উনায় দাগ দিতে হবে :

১০, ২৩, ৩৭, ৪৯

১৪। ছোট থেকে বড় সংখ্যা পর্যন্ত সাজাতে হবে :

২৪, ১০, ৩০, ৬২

১৫। বড় থেকে ছোট সংখ্যা পর্যন্ত সাজাতে হবে :

৬, ৪৫, ৭৭, ২২

১৬। ঠাঁকা ঘরগুলিতে সঠিক সংখ্যাগুলি বসাতে হবে :

| | | | | | | |
|----|--|----|--|----|--|----|
| ৩ | | ৫ | | ৭ | | ৯ |
| ৫৩ | | ৫৫ | | ৫৭ | | ৫৯ |

১৭। যোগ করতে হবে :

$$\begin{array}{r} \text{ক) } ১৫ \\ + ৩ \\ \hline \end{array}$$

$$\begin{array}{r} \text{(খ) } ৩৬ \\ + ৭ \\ \hline \end{array}$$

$$\begin{array}{r} \text{গ) } ৪৫ \\ + ১৬ \\ \hline \end{array}$$

$$\begin{array}{r} \text{(ঘ) } ৮২ \\ + ১৩ \\ \hline \end{array}$$

$$\begin{array}{r} \text{ঙ) } ৭৩ \\ + ১০ \\ \hline \end{array}$$

১৮। বিয়োগ করতে হবে :

$$\begin{array}{r} \text{ক) } ১২ \\ - ৫ \\ \hline \end{array}$$

$$\begin{array}{r} \text{(খ) } ১৪ \\ - ৬ \\ \hline \end{array}$$

$$\begin{array}{r} \text{(গ) } ৪৭ \\ - ১৫ \\ \hline \end{array}$$

$$\begin{array}{r} \text{(ঘ) } ৫৬ \\ - ২৪ \\ \hline \end{array}$$

$$\begin{array}{r} \text{(ঙ) } ৬৩ \\ - ২১ \\ \hline \end{array}$$

১৯। গুণ করতে হবে :

$$\begin{array}{r} \text{ক) } ২ \\ \times ৩ \\ \hline \end{array}$$

$$\begin{array}{r} \text{(খ) } ১৬ \\ \times ৫ \\ \hline \end{array}$$

$$\begin{array}{r} \text{(গ) } ২২ \\ \times ১১ \\ \hline \end{array}$$

$$\begin{array}{r} \text{(ঘ) } ৫৮ \\ \times ৩২ \\ \hline \end{array}$$

$$\begin{array}{r} \text{(ঙ) } ৮৫ \\ \times ৬৫ \\ \hline \end{array}$$

২০। ভাগ করতে হবে :

ক) ২)২ ৮((খ) ৫)৩ ২((গ) ১৭)৫ ১(

ঘ) ১৫)৪ ০ ৫((ঙ) ২০)২ ১ ৫(

২১। রামের ১০ টি বল আছে, তার ডাই এর কাছে ৫ টি বল আছে। তাদের দুজনের কাছে মোট কটি বল আছে ?

২২। রীনার কাছে ৭ টি পুতুল আছে। মীনার কাছে ৫ টি পুতুল আছে। মোট তাদের কাছে কটি পুতুল আছে ?

২৩। সুশান্ত ৫০ টাকা নিয়ে বাজারে গেল। বাজারে দিয়ে ১৫ টাকা দিয়ে চাল, ৫ টাকা দিয়ে ডাল, ১০ টাকা দিয়ে আলু কিনল। তার কাছে মোট কত টাকা থাকলো ?

২৪। একটি গাছে ১৫ টা পাখি বসে আছে। তার থেকে ৬ টা পাখি উড়ে গেল। গাছে এখন কটা পাখি রইল ?

২৫। একজন শ্রমিকের ১ দিনের মজুরী ২২ টাকা ৫০ পয়সা। তাহলে তার ৩ দিনের মজুরী কত ?

২৬। ২৫ টি কলা ৫ জনের মধ্যে সমান ভাগে ভাগ করে দিলে পুড়োকে কটি করে কলা পাবে ?

২৭। একটি বস্তায় ১০ কেজি চিনি আছে। ৫ টি বস্তায় কত কেজি চিনি থাকবে ?

২৮। একটি বুদ্ধিতে ২০ টি কমলালেবু আছে। ১০ জন ছাত্র-ছাত্রীদের মধ্যে সমান ভাগে ভাগ করে দিলে পুড়োকে কয়টি করে কমলালেবু পাবে ?

২৯। ডোমার মা। বাবা, বন্ধুকে যে কোন একটি বিষয়ে চিঠি লেখ।